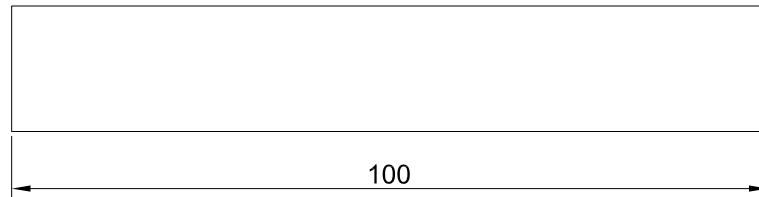
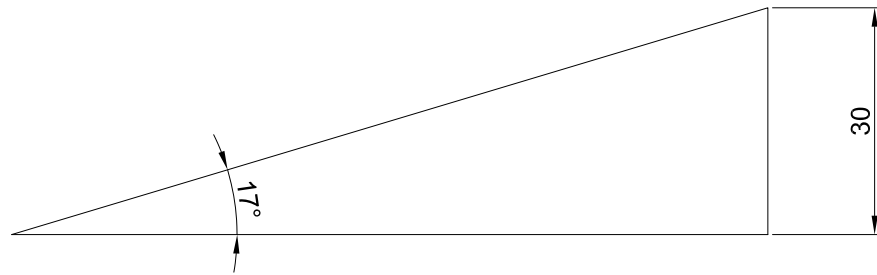


Retomando el ejemplo de las rampas. ¿sabrías decir qué dirección sería por la que el agua caería con más velocidad en esta rampa?

Dibuja esa dirección y marca las líneas de cota cada medio metro. ¿Qué observas?

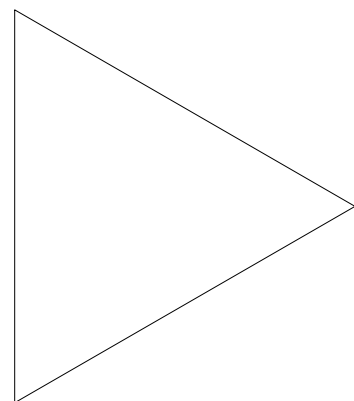

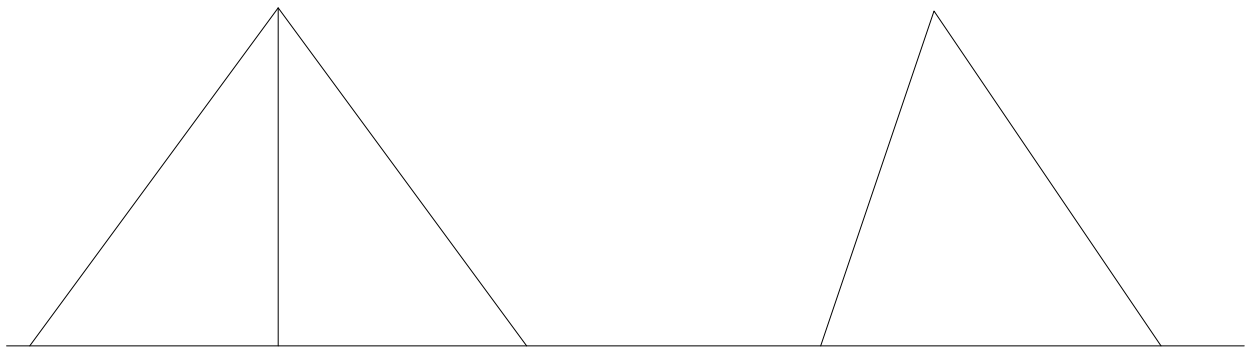


Supongamos ahora estas dos pirámides.

¿Podrías dibujar las líneas de cota de cada uno de sus planos?

¿Qué ocurre en las intersecciones de las líneas de cota de igual altura?

¿Observas que esos puntos de intersección cumplan alguna característica?



PR-5

1/100

A4

PRÁCTICA. CONCEPTO MÁXIMA PENDIENTE